

**DAHA FAZLASINI
İSTEYENLERE**

6. SINIF

PARAGRAF

SORU BANKASI

Yeni Müfredata Uygun

Tam Hücreleme Sistemi

Akıllı Tahtaya Uyumlu



Paragraf sorularını çözerken

Paragraf soruları okuduğunuzu anlamaya yönelik sorulardır. Kitap okuma alışkanlığınızın olması paragraf sorularını daha kolay çözmenizi sağlayacaktır.

Öncelikle soru kökü ve şıklarına göz ucuyla bakmalısınız.

Soruyu okurken önemli kelimelerin altını çizmelisiniz.

Bütün şıkları mutlaka okumalısınız.

Soruları paragrafa göre yorumlamalısınız.

Olumsuz ifadelere dikkat etmelisiniz.

Soru
Sayısı

523

Seçenekleri okurken seçenekler ile ilgili düşüncelerinizi kısa ifadelerle not almalısınız.

Paragrafta yapı konusunu iyi kavramalısınız. Bu, diğer paragraf sorularını çözerken doğru adım atmanızda size yardımcı olacaktır.

Paragraf sorularında pratiklik kazanmanız için düzenli bir şekilde her gün bir test çözmek size katkı sağlayacaktır. Paragraf soruları diğer sorulardan daha kolaydır. Çünkü cevabı kendi içerisinde bulabilirsiniz. Bunu unutmamalısınız.

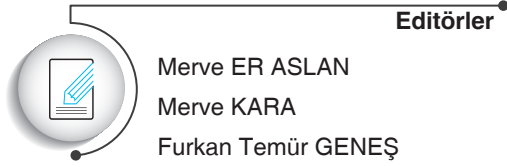
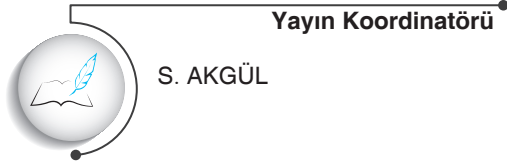
Copyright ©

Bu kitabın her hakkı yayınevine aittir.

Hangi amaçla olursa olsun, bu kitabın tamamının ya da bir kısmının, kitabı yayınlayan yayınevinin önceden izni olmaksızın elektronik, mekanik, fotokopi ya da herhangi bir kayıt sistemi ile çoğaltılması, yayınlanması ve depolanması yasaktır.

270622 – B1

ISBN: 978-605-250-353-9



www.dijitalim.com.tr

“Dijitalim” öğrenci veya öğretmen uygulamasını indirerek bütün soruların video çözümlerine ulaşabilirsiniz.



www.dijitalim.com.tr

DİJİTAL EĞİTİM PORTALIMIZA GİRİNİZ.

ÖĞRETMEN ÜYELİĞİ SEÇİMİ İLE SİSTEME ÜYELİK FORMUNU DOLDURUNUZ. SİSTEME GİRİŞ YAPARAK DİJİTAL İÇERİKLERİMİZİ İSTEDİĞİNİZ YERE İNDİREBİLİRSİNİZ. İNTERNETE BAĞLI OLSUN VEYA OLMASIN DİLEDİĞİNİZ PLATFORMLARDA İÇERİKLERİMİZİ KULLANABİLİRSİNİZ.

Test ve deneme oluşturmak için

70.000 soruluk

“SORU HAVUZU”muzdan yararlanabilirsiniz.

AKILLI TAHTAYA
UYUMLU

TAMAMEN ÜCRETSİZ İÇERİK

Konu Anlatımları
Benzer Sorular
Online Testler
Online Denemeler

İŞLEYEN ZEKA YAYINLARI

Ostim Mahallesi 1207. Sokak 3/ C-D Ostim / Yenimahalle / ANKARA

Tel: (0312) 395 13 96 Fax: (0312) 394 10 04





Değerli Öğretmen Arkadaşlarım ve Sevgili Öğrenciler,

Eğitim öğretim sürecinde öğrencilerimiz çeşitli sınavlarla karşılaşmaktadır. Öğrencilerimizin bu süreci başarılı bir şekilde tamamlamalarında onlara destek olmak amacıyla “İşleyen Zeka Yayınları” olarak uzman bir kadroyla çalışmalarımızı sürdürüyoruz.

Yayın çalışmalarımızı Talim ve Terbiye Kurulu Başkanlığının yayımladığı öğretim programlarına göre hazırlıyoruz. İçeriklerimizi hazırlarken kazanım eksenli çalışıyor, sorularda tüm kazanımları işliyoruz. Kazanım dışında kalan içeriklere ve sorulara yayınlarımızda yer vermiyoruz. Müfredat değişikliklerini anında takip ederek ve yayınlarımızı sürekli güncelleyerek öğrencilere her zaman yeni müfredata göre sunuyoruz.

“İşleyen Zeka Yayınları” olarak yaptığımız ihtiyaç analizleriyle öğrencilerin farklı şekilde oluşan ihtiyaçlarını gidermek için ürün yelpazemizde birbirinden farklı çalışmalara yer veriyoruz. Bu kapsamda “soru bankaları, branş denemeleri, paket denemeler ve kurumsal denemeler” gibi farklı yayınlarla karşınıza çıkıyoruz.

Eleştiriyle bizi yönlendiren ülkemizin seçkin Türkçe öğretmeni arkadaşlarımız Büşra GENEŞ, Kamber LAFÇI, Asilhan KARAASLAN, Abdullah KOCAŞAHAN, Ayhan YILDIZ, Orhan NAS, Gurbet DUYMUŞ, Doğan ELÇİ, Ramazan ASLAN ve Mahmut DEMİR’e teşekkürlerimizi sunuyoruz.

“İşleyen Zeka Yayınları”nın size en uygun ürününü seçerek sizler de başarıya emin adımlarla koşabilirsiniz. Başarı dilekleriyle...

S. AKGÜL
Yayın Koordinatörü

İÇİNDEKİLER

1. ÜNİTE	GÖRSEL / GRAFİK / TABLO OKUMA
	Görsel / Grafik / Tablo Okuma..... 7

6. ÜNİTE	PARAGRAFIN YARDIMCI DÜŞÜNCELERİ
	Paragrafın Yardımcı Düşünceleri 99

2. ÜNİTE	SÖZEL YETENEK / MANTIK / MUHAKEME / AKIL YÜRÜTME
	Sözel Yetenek / Mantık / Muhakeme / Akıl Yürütme 33

7. ÜNİTE	METİN TÜRLERİ / HİKÂYE UNSURLARI
	Metin Türleri / Hikâye Unsurları 119

3. ÜNİTE	PARAGRAFIN YAPISI
	Giriş Cümlesi 47
	Sonuç Cümlesi 51
	Paragrafın Akışı..... 55
	Paragraf Oluşturma 59
	Paragrafın Yapısı (Karma)..... 63

8. ÜNİTE	METİN KARŞILAŞTIRMA
	Metin Karşılaştırma..... 133

4. ÜNİTE	PARAGRAFIN KONUSU / BAŞLIĞI
	Paragrafın Konusu / Başlığı..... 69

Denemeler.....	141
Cevap Anahtarı.....	171

5. ÜNİTE	PARAGRAFIN ANA DÜŞÜNCESİ
	Paragrafın Ana Düşüncesi.....79

1. ÜNİTE

GÖRSEL / GRAFİK / TABLO OKUMA

Görsel / Grafik / Tablo Okuma





1. Test

2. Test

3. Test

4. Test

5. Test

6. Test

7. Test

8. Test



1. Aşağıdaki tabloda bir dilekçe örneği verilmiştir.

Belediye Başkanlığına,
Akhisar

Hürriyet Mahallesi'nde oturmakta-
yım. Mahallemizdeki çöplerin toplanma-
sında aksaklıklar olmaktadır. Durumu
bilgilerinize sunar, gereğinin yapılmasını
arz ederim.


29.08.2018
Sami

Çelebi
Adres: Hürriyet Mah. Dikmen Cad.
No: 35 D: 8
Akhisar / MANİSA

- Bu dilekçeye göre aşağıdakilerden hangisi yanlıştır?**

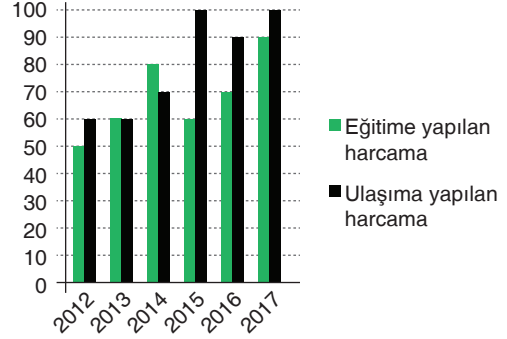
- A) Bir problemin giderilmesi istenmektedir.
B) Problemin ne olduğu belirtilmiştir.
C) Adres yanlışı yere yazılmıştır.
D) Dilekçe, resmî bir kuruma yazılmıştır.
2. Evrende her şeyin, durumun birbirinden kopmaz iki karşıt kutbu vardır ki bu durum bir zıtlıktır. Yaşamdaki bu zıtlığı ifade etmek için Çin kültüründe iki zıt kutbu ifade eden “Yin ve Yang” kavramları kullanılır. “Yin” kutbu; içeri doğru, usul, karanlık, gece, alçak gibi özellikleri ifade ederken “Yang” kutbu ise dışa doğru, ışıklı, gündüz, yüksek gibi özellikleri barındırmaktadır. “Yin” sakinliği, pasifliği ifade ederken “Yang” sıcaklığı, aktifliği vurgulamaktadır.

- Bu bilgilere göre aşağıdaki görsellerden hangisi farklı bir kutbu temsil etmektedir?**



- 3-5. soruları aşağıdaki grafiğe göre cevaplayınız.**

Aşağıdaki grafikte beş yıl içinde eğitime ve ulaşım yapılan harcamalar görülmektedir.



3. Verilen grafikte eğitim ve ulaşım toplamda en çok harcama yapılan yıl aşağıdakilerden hangisidir?

- A) 2017 B) 2016
C) 2015 D) 2014

4. Bu grafikte eğitime toplamda en az harcamanın yapıldığı yıl aşağıdakilerden hangisidir?

- A) 2012 B) 2013
C) 2015 D) 2017

5. Bu grafiğe göre aşağıdakilerden hangisi yanlıştır?

- A) Bütün yıllarda ulaşım harcanan miktar, eğitime harcanan miktardan fazladır.
B) Ulaşım en çok 2015 ve 2017 yıllarında harcama yapılmıştır.
C) Eğitime en az 2012 yılında harcama yapılmıştır.
D) 2014 yılında eğitim harcamaları, ulaşım harcamalarını geçmiştir.

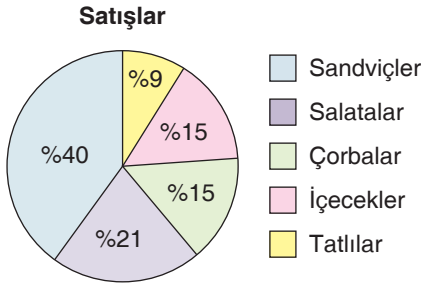
6.



Bu görsele bakarak aşağıdakilerin hangisi hakkında yorum yapılamaz?

- A) Evlerin yapısı
- B) İnsanları giyim kuşamları
- C) İnsanların gelir düzeyi
- D) Ulaşım araçları

7. Aşağıdaki grafikte bir hastanenin kantininde satışı yapılan yiyeceklerin yüzdesi gösterilmektedir.

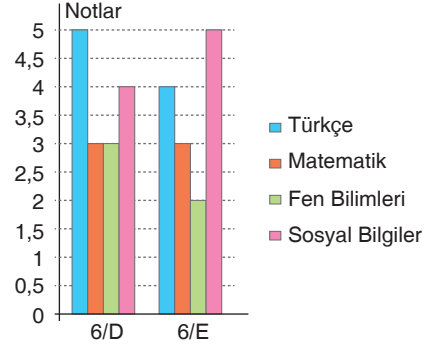


Bu grafikte ilgili aşağıdakilerden hangisi söylenemez?

- A) Çorbalar ve içeceklerin satılma oranı eşittir.
- B) En çok satılan ürün, sandviçlerdir.
- C) Kantinde hazırlanan tatlılar kaliteli değildir.
- D) Sandviçten sonra satışı fazla olan ikinci ürün, salatalardır.

8-10. soruları aşağıdaki grafiğe göre cevaplayınız.

Aşağıdaki grafikte 6/D sınıfı ile 6/E sınıfının dört dersine ait not ortalamaları görülmektedir.



8. **Bu grafiğe göre her iki sınıfın en yüksek ders ortalaması aşağıdakilerden hangisidir?**

- A) Türkçe
- B) Türkçe ve sosyal bilgiler
- C) Sosyal bilgiler
- D) Matematik

9. **Bu grafiğe göre iki sınıfın en düşük ortalamaya sahip olduğu ders aşağıdakilerden hangisidir?**


- A) Fen bilimleri
- B) Matematik
- C) Sosyal bilgiler
- D) Matematik ve fen bilimleri

10. **Bu grafiğe göre aşağıdakilerden hangisi yanlıştır?**

- A) 6/D sınıfı Türkçe dersinde 6/E sınıfından daha başarılıdır.
- B) 6/E sınıfı ile 6/D sınıfının matematik ortalamaları aynıdır.
- C) 6/E sınıfının en başarılı olduğu ders, sosyal bilgilerdir.
- D) Her iki sınıfın en başarılı oldukları ders, Türkçedir.

1-3. soruları aşağıdaki grafiğe göre cevaplayınız.

Bölgelere Göre Nüfus Dağılımı



1. Bu grafiğe göre nüfusun en fazla olduğu bölge aşağıdakilerden hangisidir?

- A) İç Anadolu Bölgesi
- B) Marmara Bölgesi
- C) Akdeniz Bölgesi
- D) Karadeniz Bölgesi

2. Bu grafiğe göre nüfusu en az olan bölge aşağıdakilerden hangisidir?

- A) Doğu Anadolu Bölgesi
- B) Güneydoğu Anadolu Bölgesi
- C) İç Anadolu Bölgesi
- D) Akdeniz Bölgesi

3. Bu grafiğe göre aşağıdakilerden hangisi söylenemez?

- A) En az nüfus Doğu Anadolu Bölgesi'nde bulunmaktadır.
- B) Üç bölgenin nüfus dağılımı eşittir.
- C) İç Anadolu Bölgesi, nüfus dağılımında ikinci sırada bulunmaktadır.
- D) Ege Bölgesi'nde nüfus bakımından çok kalabalık şehirler bulunmaktadır.

4. Aşağıdaki grafikte bir kümesteki hayvanların sayısı görülmektedir.



Horoz



Ördek



Hindi

Bu grafiğe göre aşağıdakilerden hangisi yanlıştır?

- A) Kümesteki horozlar, hindilerin iki katıdır.
- B) Kümeste üç tür hayvan bulunmaktadır.
- C) Kümeste altı tane ördek vardır.
- D) Kümeste en çok horoz vardır.

5.

KONFERANS

Konu	: Yıldız Kenter
Konu	: Türk Toplumunda Tiyatroya Duyulan İhtiyaç
Yer	: Kenter Tiyatrosu
Tarih	: 20. 09. 2010
Saat	: 19.00

Bu tabloyla ilgili aşağıdakilerden hangisi yanlıştır?

- A) Yıldız Kenter'in sunuculuğunda yapılan bir programdır.
- B) Konferans, Kenter Tiyatrosunda gerçekleştirilmiştir.
- C) Konferans, eylül ayında gerçekleşmiştir.
- D) Konferansın saati, yeri, tarihi bellidir.

6.

Oyunun Adı:
Külkedisi

Gösteri Yeri:
Bursa Devlet Tiyatrosu

Ücret:
Tam: 25 ₺ Öğrenci: 15 ₺

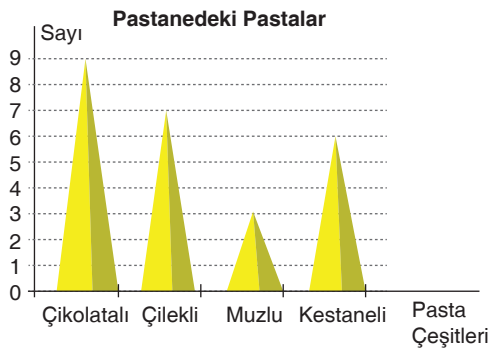
Oyun Saati:
18.00

Oyunun Konusu:
"Külkedisi" oyununun başlamasına kısa bir süre kala oyuncuların oyunu bıraktığını öğrenen yönetmen, seyirciler salona alınmaya başlanınca perdeyi kapatmamak için tüm oyunu teknik ekibe oynatmaya karar verir.

Yukarıdaki oyun tanıtımıyla ilgili verilenlerden hangisi söylenemez?

- A) Bursa Devlet Tiyatrosunda gösterilen bir oyundur.
B) Öğrenci bileti, tam biletten daha ucuzdur.
C) Külkedisi oyunu çocuklara yönelik bir oyundur.
D) Oyun, akşam 6'da gösterime girmektedir.

7. Aşağıdaki grafikte Akhisar'ın en seçkin pastanesi olan Tadhisar'da 14 Şubat'ta iki saat içinde satılan pasta sayısı gösterilmektedir.



Bu grafiğe göre aşağıdakilerden hangisi yanlıştır?

- A) İki saat içinde 25 pasta satılmıştır.
B) En çok çikolatalı pasta satılmıştır.
C) Muzlu pasta, pek sevilmeyen bir pasta türüdür.
D) Çilekli pastalar, kestaneli pastalardan daha çok satılmıştır.

8.



Aşağıdakilerden hangisi verilen görselde kullanılabilecek bir slogan olamaz?

- A) Kan Bağıışı Hayat Kurtarır
B) Bir Gün Değil Her Gün Sağlık
C) Bugün Kan Ver, Yarın Sana da Gerekebilir
D) Kan Ver, Kalp Kazan

9.

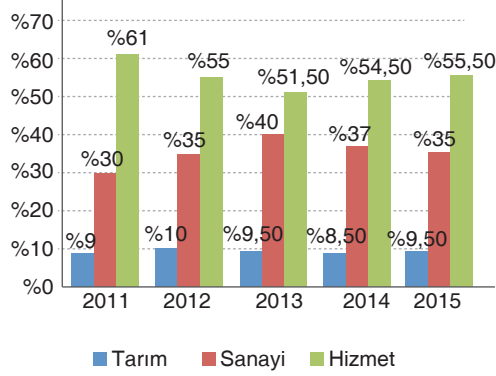
	Mecaz Anlam	Somut Anlam	Gerçek Anlam	Deyim Anlam
I. Çocuk, sevinçle annesinin boynuna sarıldı.			+	
II. Bu düşün için dünyanın masrafını yapmışlar.	+			
III. Elini şişenin ağzına dayayınca su akışı kesildi.				+
IV. Gittiğin yerde cep telefonu çekmeyebilir.		+		

Yukarıdaki tabloda hangi cümledeki altı çizili sözcüğün anlam özelliği yanlıştır?

- A) I B) II C) III D) IV

1-3. soruları aşağıdaki grafiğe göre cevaplayınız.

Aşağıdaki grafikte üç sektörün beş yıldaki kazanç oranları gösterilmektedir.



1. Bu grafiğe göre aşağıdakilerden hangisi yanlıştır?

- A) En az kazanç tarım sektöründen sağlanmaktadır.
 B) Sanayi sektöründe en az kâr elde edilen yıl 2011'dir.
 C) 2012 ve 2015 yıllarında hizmet sektöründeki kazanç eşittir.
 D) Hizmet sektöründe hep %50'nin üzerinde kâr sağlanmıştır.


2. Bu grafiğe göre sanayi sektöründe en iyi dönem hangisidir?

- A) 2011 B) 2012
 C) 2013 D) 2014

3. Bu grafiğe göre aşağıdakilerden hangisi söylenemez?

- A) Hiçbir sektörde ve yılda %70'lere ulaşılammıştır.
 B) Hizmet sektörü, en çok kazanç elde edilen sektördür.
 C) Hizmet sektörü ile tarım sektörü arasında en büyük açık 2011 yılındadır.
 D) Sanayi sektöründe en verimli dönem 2014 yılıdır.

4. Aşağıdaki tabloda il halk kütüphanesinden alınan romanların türlere göre yüzdesi verilmektedir.

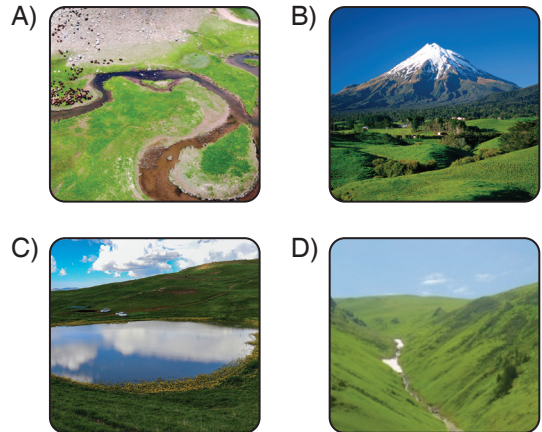


Buna göre aşağıdakilerden hangisi söylenemez?

- A) Bilim kurgu romanları macera romanlarından daha çok sevilmektedir.
 B) En az tercih edilen tür, gerilim romanlarıdır.
 C) Polisiye romanlar %30'luk oranla en çok alınan türdür.
 D) Romantik romanlarla bilim kurgu romanlarının oranı eşittir.

5. Bu yerler, öyle yerlerdir ki hemen dikkat çeker. Bize uzak ve ulaşılmaz görünmekle birlikte aynı zamanda meydan okuyucudur. Bu yerler, çoğu kültür tarafından ruhani görünür ve yeryüzü ile gökyüzünün birleşim noktaları olarak ifade edilir. Bu yüzden de kutsal olarak değerlendirilir çoğu kültür tarafından.

Paragrafta "Bu yerler" olarak isimlendirilen ve özellikleri verilen, aşağıdaki görsellerin hangisine denk düşmektedir?



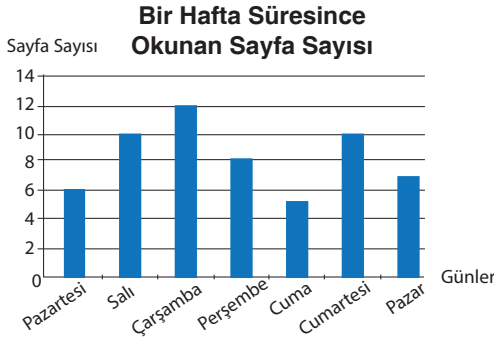
6. Cumhuriyet İlköğretim Okulu anasınıfında okuyan öğrencilerin en sevdiği yemekler ile ilgili grafik aşağıda gösterilmektedir. (Her şekil 2 öğrenciyi göstermektedir.)



Grafiğe göre en sevilen yemek ile en az sevilen yemek aşağıdakilerin hangisinde doğru sıralanmıştır?

- A) Köfte - Balık
B) Makarna - Çorba
C) Köfte - Çorba
D) Balık - Pilav

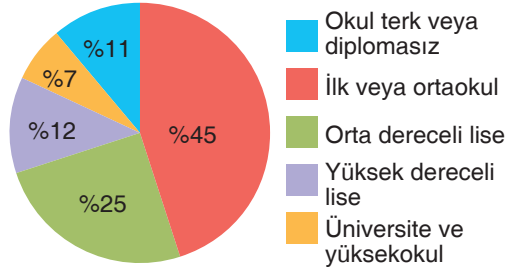
7. Aşağıdaki grafikte 1. sınıf öğrencisi Sinem'in bir hafta süresince okuduğu sayfa sayısı görülmektedir.



Bu grafiğe göre aşağıdakilerden hangisi yanlıştır?

- A) Sinem, en fazla çarşamba günü kitap okumuştur.
B) Sinem, kitap okuma alışkanlığı kazanmış bir öğrencidir.
C) En az kitap okuduğu gün cumadır.
D) Sinem, salı ve cumartesi günü aynı sayfada kitap okumuştur.

8. Aşağıdaki grafikte Almanya'da yaşayan orta yaş üstü Türklerin eğitim seviyeleri gösterilmektedir.



Bu grafiğe göre aşağıdakilerden hangisi söylenemez?

- A) Ele alınan kitlenin yarıya yakını ilk veya ortaokul mezunudur.
B) Üniversite mezunu kesim en az yüzdeliğe sahiptir.
C) Almanya'da yaşayan kişilerin dörtte biri orta dereceli lise mezunudur.
D) Diplomasız vatandaşların iş bulması daha zor olmaktadır.

- 9.

**Panele Davetlisiniz
YAŞADIĞIMIZ ÇEVRE**

Konuşmacılar:

Mehtap Sert: Çevre Kirliliğinin Nedenleri

Ceylin Arıkan: Çevre Kirliliğini Önleme Yolları

İbrahim Kılıç: Küresel Isınmanın Yer-küreye Etkileri

Macide Korkmaz: Geri Dönüşümün Ülkemiz Ekonomisine Kazandırdıkları

Tarih: 15.11.2018

Saat: 11.00

Yer: Okulumuzun Konferans Salonu

Bu tabloya göre aşağıdakilerden hangisi söylenemez?

- A) Panelde dört konuşmacı vardır.
B) Konferans salonunda yapılan panele öğrenciler ve veliler davetlidir.
C) Farklı konularda konuşmalar olacaktır.
D) Panel kasım ayında ve öğleden önce gerçekleşmektedir.

İşleyen Zeka Yayınları

1. 20/02/2019

Sayın Veli,
Düzenlenecek olan veli toplantısına
katılımınızı bekler, esenlikler dilerim.

Tarih: 23/02/2019

Saat: 15.30

Sınıf Öğretmeni

Bu dilekçeye bakarak aşağıdaki sorulardan hangisinin cevabı alınmaz?

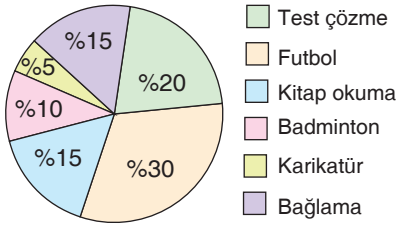
- A) Dilekçenin niçin yazıldığı
B) Toplantının ne zaman yapılacağı
C) Toplantının saat kaçta yapılacağı
D) Toplantının nerede yapılacağı

2.



Aşağıdakilerden hangisi bu görsele uygun bir slogan olamaz?

- A) Suyu Tasarruflu Kullanalım
B) Akan Her Damlayla Dünya Elden Gidiyor
C) İsraf, Dünyanın Sonunu Getirebilir
D) Dünyanın da Temizlenmeye İhtiyacı Var
3. Yusuf'un yaz tatilinde yaptığı aktiviteler aşağıdaki grafikte gösterilmiştir.

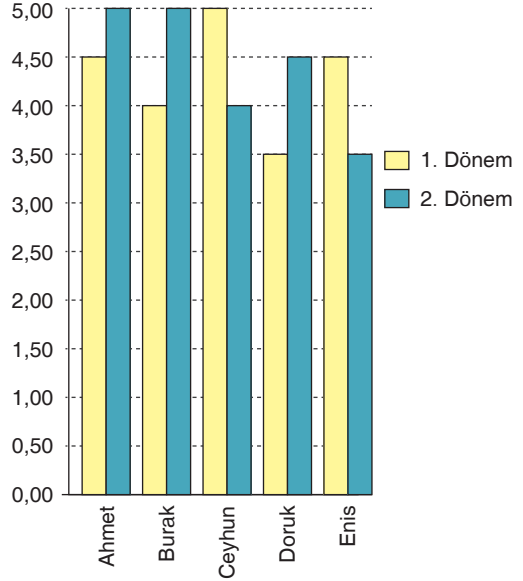


Bu grafikten hareketle aşağıdakilerin hangisi söylenemez?

- A) Yusuf, karikatür yapmayı sevmemektedir.
B) Yusuf'un bağlama ve kitap okumaya ayırdığı zamanın toplamı futbola ayırdığı zamana eşittir.
C) Yusuf, test çözmeye badminton'dan daha fazla zaman ayırmaktadır.
D) Yusuf, gün içinde farklı aktiviteler yapmıştır.

4-6. soruları aşağıdaki grafiğe göre cevaplayınız.

Aşağıdaki grafikte beş öğrencinin 1 ve 2. dönem not ortalamaları görülmektedir



4. Bu grafiğe göre not ortalamasını en çok yükselten öğrenci aşağıdakilerin hangisinde verilmiştir?

- A) Ahmet B) Burak
C) Burak ve Doruk D) Doruk ve Ahmet

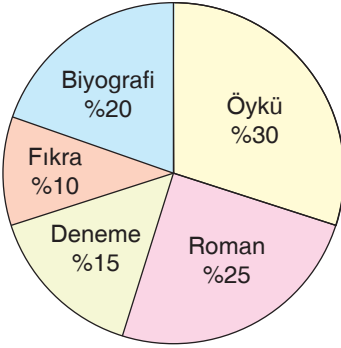
5. Bu grafiğe göre not ortalaması en yüksek öğrenci aşağıdakilerden hangisidir?

- A) Ahmet B) Burak
C) Ceyhan D) Doruk

6. Bu grafiğe göre aşağıdakilerden hangisi söylenemez?

- A) Ahmet'in 1. dönem notları 2. dönem notlarından daha düşüktür.
B) Ceyhan, ikinci dönem ders çalışmadığı için notları düşmüştür.
C) Doruk, 2. dönem ortalamasını bir puan artırmıştır.
D) Enis, not ortalaması en düşük iki öğrenciden biridir.

7. Aşağıdaki grafikte bir kitapçıda satılan kitapların oranı gösterilmektedir.




Bu grafiğe göre aşağıdakilerden hangisi yanlıştır?

- A) En çok öykü kitapları satılmıştır.
 B) Denemelerin satılma oranı, öykülerin yarısıdır.
 C) Romanlar uzun olduğu için daha geç sürede bitmektedir.
 D) En az fıkra kitapları satılmıştır.

8. I. GÖRSEL



- II GÖRSEL



Eşitlik ve adalet kavramlarının karikatürize edildiği görsellerden aşağıdaki yargılardan hangisini çıkarabiliriz?

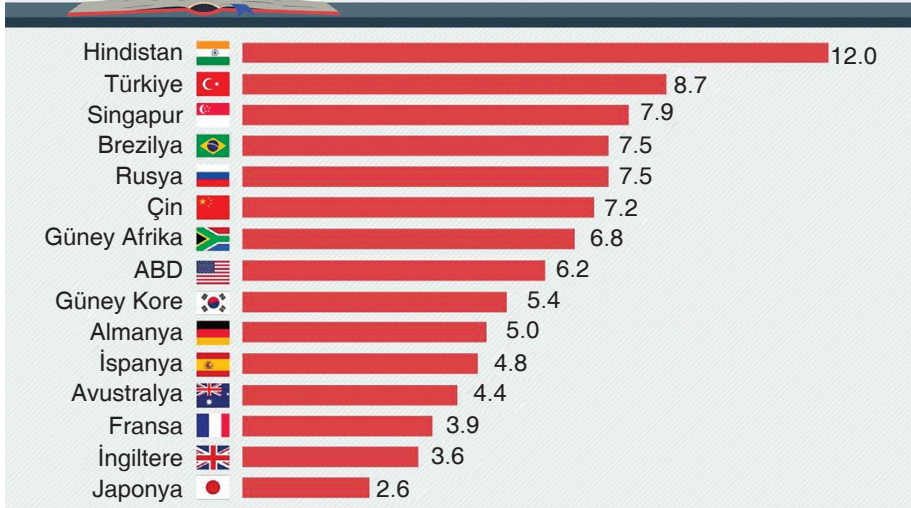
- A) Herkese eşit davranmak gerekir.
 B) Her eşitlik adaletli olmayabilir.
 C) İnsanların yaşlarına göre araç seçmesi gerekir.
 D) Engelli insanlara eşit davranılmamalıdır.

İşleyen Zeka Yayınları

- 9.

EV ÖDEVLERİNDE ÇOCUKLARIMIZA NE KADAR YARDIM EDİYORUZ?

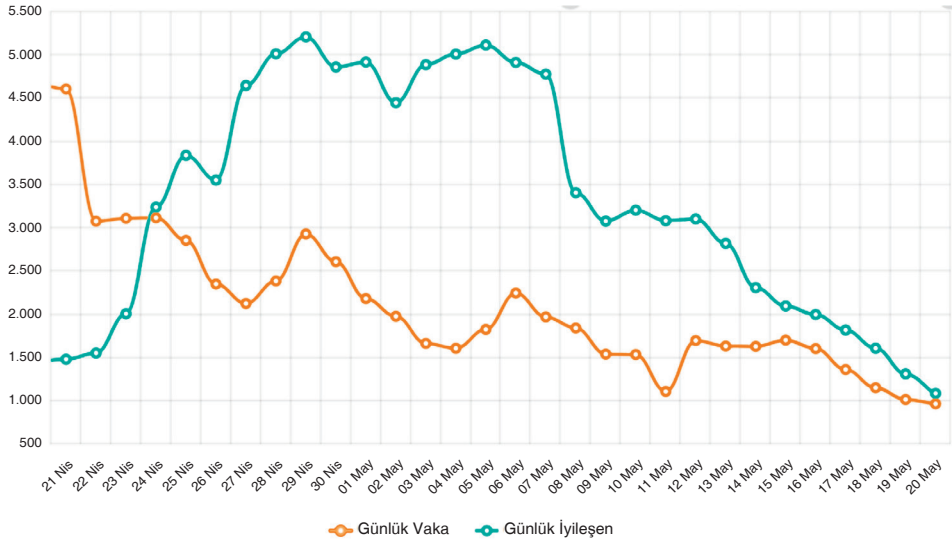
2018 yılı araştırmasına göre haftada 12 saat yardımla Hindistanlı ebeveynler ilk sırada. İkinci sırada ise 8,7 saat ile Türkiye var.



Görseldeki bilgilerden hareketle aşağıdakilerden hangisine ulaşamaz?

- A) Hindistan ile Almanya arasında altı saatten fazla bir fark vardır.
 B) Türkiye'deki ebeveynler (veliler), Çin'deki ebeveynlerden daha çok yardım ediyor ödev yapılırken.
 C) Türkiye'de ebeveynlerin (velilerin) çok yardım etmesinde ödevlerin çok olması faktörü vardır.
 D) Ev ödevlerinde çocuklara en az yardım yapan ülke olan Japonya ile Türkiye arasında 12 ülke bulunmaktadır.

1.



Bu grafikten hareketle aşağıdakilerin hangisi söylenemez?

- A) Günlük vaka sayılarında değişim görülmektedir.
 B) İyileşen kişilerin 5 bini geçtiği günler bulunmaktadır.
 C) Son günlerde vaka ve iyileşen sayılarında düşüş gözlemlenmektedir.
 D) Kullanılan ilaçların etkisi azaldığı için günlük iyileşen sayısı azalmıştır.

İşleyen Zeka Yayınları

2. Dumlupınar Üniversitesi tarafından düzenlenen uluslararası afiş yarışmasının ana amacı afiş ve tasarımın gücünü kullanarak "Organ Bağışı" konusunda farkındalık oluşturmaktır. Bu afiş yarışması sosyal bir konuyu (organ bağışını) irdeleyerek insanlığa hizmet etmeyi ve konu ile ilgili uluslararası bir çalışmayla dünya ve Türkiye'de bu alanda tasarım yapanları aynı paydada buluşturmayı amaçlamaktadır.

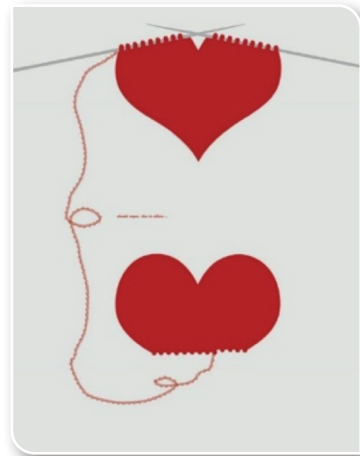
Buna göre,



I



II



III

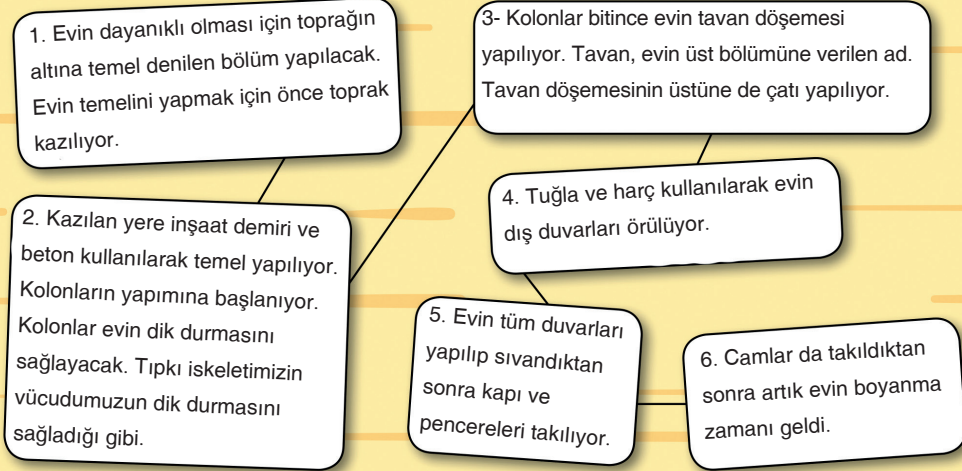
afişlerinden hangileri yapılan yarışmanın konusuyla ilişkilendirilebilir?

- A) I ve II B) I ve III C) II ve III D) I, II ve III

3.

Ayşe'nin Evi Nasıl Yapılmış?

Aşağıda Ayşe'nin evinin yapım aşamalarını gösteren bilgiler yer alıyor. Ama resimlerin sırası karışmış.



Resimleri evin yapım aşamalarına göre numaralandırırsak doğru cevap aşağıdakilerden hangisi olur?

A)  
 
 

B)  
 
 

C)  
 
 



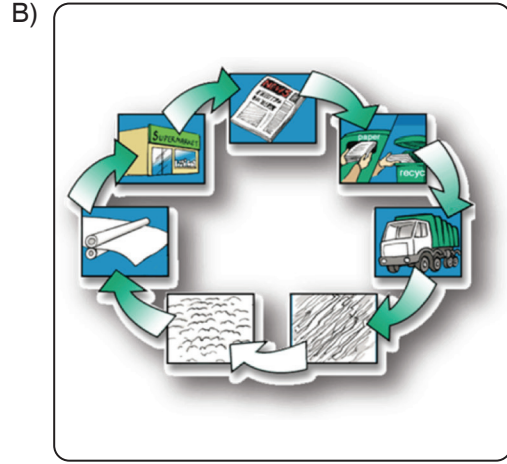
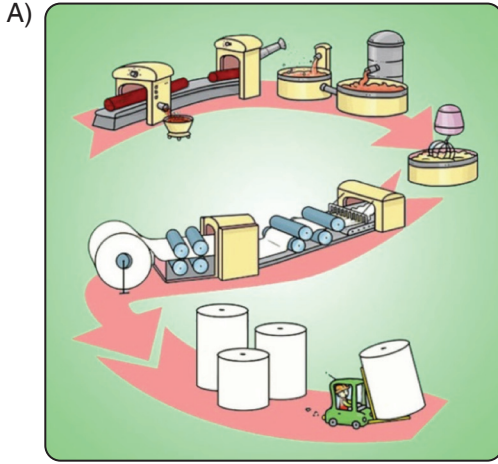
D)  
 
 

4.


Ağaçlardan Nasıl Kâğıt Yapılır?

Kâğıt yapımı ağaçların kesilip kütük hâline getirilmesiyle başlar. Fabrikaya götürülen kütüklerin dış kabukları makinelerde soyulur. Kabuğu soyulan kütükler çok küçük parçalara ayrılır. Bu küçük parçalar, su ve bazı kimyasallarla karıştırılarak akışkan bir hamur hâline gelinceye kadar pişirilir. Hazırlanan hamur, üzeri çok ince tel bir süzgeçle kaplı bantlara dökülür. Bu bantlarda hamurun içindeki fazla su süzülür. Süzgecin üzerinde kalan hamur birkaç defa silindirlerin arasından geçirilerek iyice kurutulur ve düzleştirilir. Daha sonra istenilen boyutlarda kesilir. Böylece kâğıt yapımı tamamlanmış olur.

Bu metni yansıtan görsel aşağıdakilerden hangisidir?



5. **Boğmaklı Toygar:** Adını boğazındaki siyah renkli lekeden alır, görece cılız bir kuştur.
İbibik: Siyah beyaz çizgili kanatları, yelpaze gibi açılabilen baş tüyleriyle kolayca tanınabilirler.
Karabaşlı Çinte: Gövdelerinin ön kısmı sapsarıdır. Kızıl sırtları ve siyah başlarıyla dikkat çekerler.
Küçük Kerkenez: Uzun kuyruklu, ince kanatlı ve küçük vücutlu zarif bir yırtıcıdır.



Bu bilgilerden hareketle numaralanmış görsellerdeki kuşların isimleri hangisinde doğru verilmiştir?

I	II	III	IV
A) Boğmaklı Toygar	İbibik	Küçük Kerkenez	Karabaşlı Çinte
B) İbibik	Boğmaklı Toygar	Küçük Kerkenez	Karabaşlı Çinte
C) İbibik	Küçük Kerkenez	Boğmaklı Toygar	Karabaşlı Çinte
D) Karabaşlı Çinte	Küçük Kerkenez	Boğmaklı Toygar	İbibik

İşleyen Zeka Yayınları

6.



Görselden hareketle aşağıdaki yorumlardan hangisi yapılamaz?

- A) Kitap okuma ve dinleme etkinliği yapılmaktadır.
 B) Kişilerin giyim tarzı hakkında bilgilere ulaşılmaktadır.
 C) Dönemin sosyal ilişkilerine dair bazı bilgiler elde edilebilmektedir.
 D) Kadınların iş hayatına dair bazı bilgiler görselden elde edilebilmektedir.

1. Bir sosyal medya kanalı üzerinden kullanıcılarına “Evinizin duvarlarına nasıl bir tablo asmak isterdiniz?” sorusu yöneltilmiştir. Ali adlı kişinin sorunun cevap bölümüne şunları yazdığı bilinmektedir:

Evimizin duvarına güne bütün ailesiyle mutluluk içinde uyanan kalabalık bir ailenin tablosunu asmak isterim. Ayrıca bu tabloyu astığım duvarın karşısına iş birliği içinde çalışan ve bütün aile bireylerinin kendi sorumluluklarını üstelendiği bir tablo asmak isterim. Son olarak evimizin duvarlarında bir gaz lambası ışığında akşam yemeğini ve çayını muhabbet eşliğinde geçirmeye çalışan bir aile tablosu asmak isterdim.

Buna göre aşağıdaki görsellerden hangisi Ali'nin evine asmak istediği tablolara örnek olarak gösterilemez?



İşleyen Zeka Yayınları

2.

Katılım Belgesi



Sayın Masal Aslan

1 adet fidan ile geleceğe nefes oldunuz!

Ağaçlandırma bölgeniz:
BİNGÖL / Merkez / Tugay Komutanlığı
Alanı

11 Kasım 2019'da saat 11.11'de sizi, aileniz, arkadaşlarınız ve komşularınız ile birlikte bereketli topraklarımıza fidan dikmeye bekliyoruz. Çocuklarımıza, torunlarımıza bırakacağımız en değerli miras 11 Kasım 2019 tarihinde birlikte dikeceğimiz fidanlarımız olacak.






Görselden hareketle aşağıdakilerden hangisine ulaşamaz?

- A) Belirli sayıda kişi ile katılımın gerektiğine B) Katılım belgesinin hangi sebeple verildiğine
C) İlgili etkinliğin hangi tarihte yapılacağına D) Etkinliğin yapılacağı yerin konum bilgisine

3. Farklı ülkelere ait çeşitli yapılarla ilgili bilinenler şunlardır:

- İngiltere'nin Salisbury Ovası'ndaki devasa taş monolitlerinden oluşan ve tarih öncesi bir anıt olan Stonehenge, yüzyıllar boyunca insanları şaşırtmış ve onların meraklarını uyandırmıştır.
- Bu nefes kesen kale 13. yüzyılda Genevre Gölü kıyılarında inşa edildi. Savoy Kontlarının yaşadığı kale her yıl 400 binden fazla kişi tarafından ziyaret ediliyor.
- Manhattan'da Central Park'taki yürüyüş yolu 16.000 renkli karodan oluşan muhteşem bir tavan süslemesine sahip. Karoların her biri Minton and Company tarafından elle üretilmiştir.

Verilen bilgiler aşağıdaki görsellerle eşleştirildiğinde hangi görsel dışarıda kalır?



İşleyen Zeka Yayınları

4.

MOTORLU KARA TAŞITLARI

Ekim 2021

HABER BÜLTENİ

Ekim ayında **85 bin 691 adet** taşıtın trafiğe kaydı yapıldı.

Ocak-Ekim döneminde trafiğe kaydı yapılan
540 bin 642 adet otomobilin;

Renk dağılımı



BEYAZ
%41,0



GRİ
%27,5



MAVİ
%11,0



KIRMIZI
%7,7

Yakıt türü dağılımı



BENZİN
%61,7



DİZEL
%23,9



ELEKTRİKLİ
/ HİBRİT
%8,9

f @ t / tuikbilgi | www.tuik.gov.tr

tuik

Görseldeki bilgilerden hareketle aşağıdakilerden hangisine ulaşamaz?

- Ekim ayında, elektrikli otomobil kayıt oranı %8,9 olmuştur.
- On aylık süreçte en fazla kaydı yapılan yakıt türü benzin olmuştur.
- Ocak ayından ekim ayına kadar en fazla kaydı yapılan taşıt rengi "beyaz" olmuştur.
- Verilen görselde, hava taşıtları ile ilgili bilgilere yer verilmemiştir.